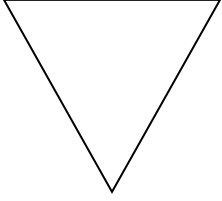
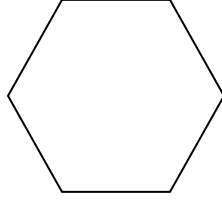


الأشكال الهندسية:


1) اُكْتُبْ عَدَدَ أَضْلاعِ الأشْكالِ التَّالِيَةِ:




\_\_\_\_\_



\_\_\_\_\_




\_\_\_\_\_




\_\_\_\_\_



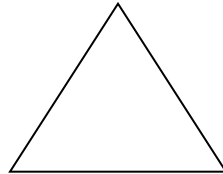
2) اُكْتُبْ أَسماءَ الأشْكالِ التَّالِيَةِ (اسْتَعِينِ بِمَخَزَنِ الكَلِمَاتِ)



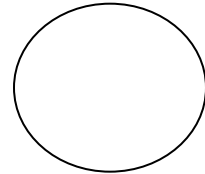
\_\_\_\_\_



\_\_\_\_\_



\_\_\_\_\_

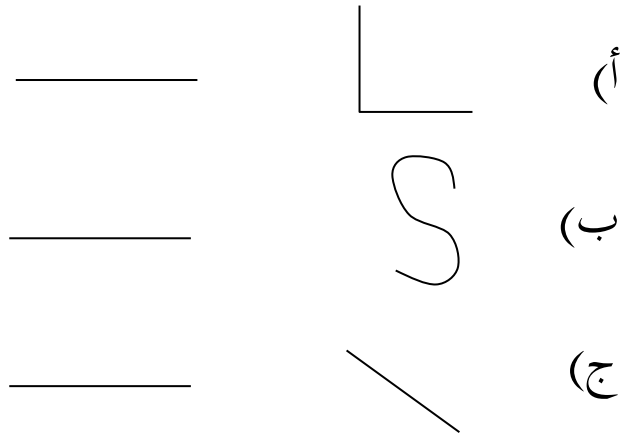


\_\_\_\_\_

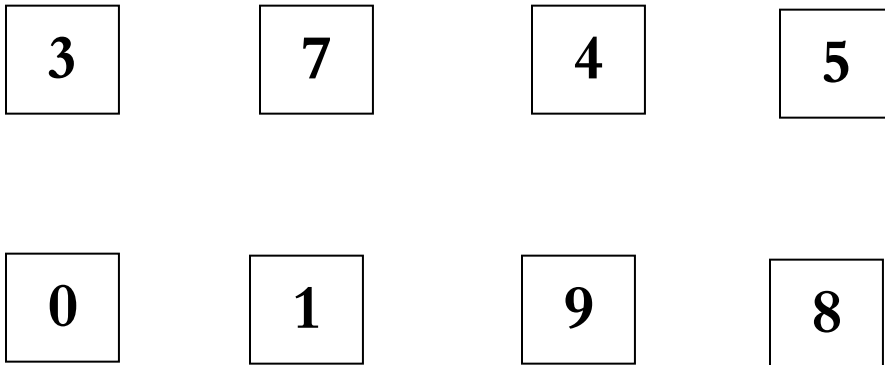
مُتَلَّث - مُسْتَطِيل - دَائِرَة - مُرَبَّع



3) اكتب بجانب كل خط مُستقيم، مُنحن، مُنكسر



4) لون المربعات التي تحتوي على عدد فردي :



عملا مشمرا

معلمتكم نور ابو شارب